

TAMBAH DAN TOLAK NOMBOR HINGGA 20



A Warnakan hasil tambah mengikut warna.

2.1(ii), 2.3(i)(a)

B3D1E1


11 : merah
12 : jingga

13 : kuning
14 : hijau

15 : biru
16 : ungu

17 : coklat
18 : biru tua

$9 + 9$									
$8 + 9$	$9 + 8$								
$7 + 9$	$8 + 8$	$9 + 7$							
$6 + 9$	$7 + 8$	$8 + 7$	$9 + 6$						
$5 + 9$	$6 + 8$	$7 + 7$	$8 + 6$	$9 + 5$					
$4 + 9$	$5 + 8$	$6 + 7$	$7 + 6$	$8 + 5$	$9 + 4$				
$3 + 9$	$4 + 8$	$5 + 7$	$6 + 6$	$7 + 5$	$8 + 4$	$9 + 3$			
$2 + 9$	$3 + 8$	$4 + 7$	$5 + 6$	$6 + 5$	$7 + 4$	$8 + 3$	$9 + 2$		

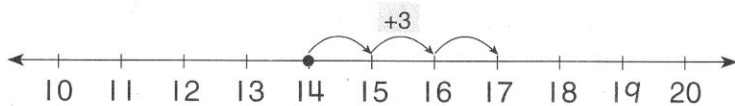



B Tambahkan.

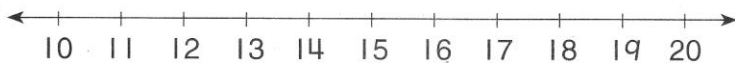
2.3(ii)(a,c)

B3D1E1

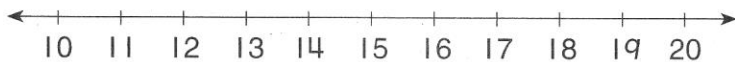
1 $14 + 3 = \square$



2 $12 + \square = 19$



3 $16 - 5 = \square$



Tema	Band	Standard Kandungan	Standard Pembelajaran	Deskriptor	Evidens	Standard Prestasi
Tambah dan Tolak Nombor Hingga 20	3	2.1 Mengenal pasti pasangan nombor untuk membentuk satu nombor yang berkaitan 2.3 Tambah dan tolak dalam lingkungan 100.	2.1(ii) 2.3(i)(a) 2.3(ii)(a,c)	B3D1	E1	B3D1E1

PENILAIAN Menguasai Tidak Menguasai Tandatangan guru: _____