


PANJANG




A Isi tempat kosong.

6.1(i,ii)

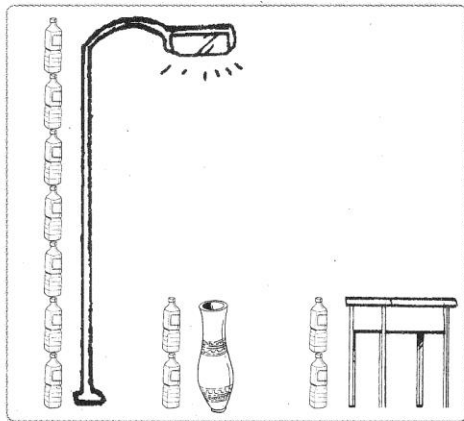
BIDIEI(b)



- 1 Tinggi cendawan ialah _____ batang pensel.
- 2 Tinggi rumput ialah _____ batang pensel.
- 3 _____ lebih tinggi daripada _____.



- 4 Tinggi almari ialah _____ batang straw.
- 5 Tinggi beg ialah _____ batang straw.
- 6 _____ lebih rendah daripada _____.



- 7 Meja _____ dengan pasu bunga.
- 8 Tiang lampu paling _____.

Tema	Band	Standard Kandungan	Standard Pembelajaran	Deskriptor	Evidens	Standard Prestasi
Panjang	I	6.1 Menggunakan unit relatif untuk mengukur panjang.	6.1(i,ii)	BIDI	EI	BIDIEI(b)

PENILAIAN

Menguasai

Tidak Menguasai

Tandatangan guru: _____